



Centralna Komisja Egzaminacyjna

Arkusz zawiera informacje prawnie chronione do momentu rozpoczęcia egzaminu.

Układ graficzny © CKE 2010

**WPISUJE ZDAJĄCY**

**KOD**

--	--	--

**PESEL**

--	--	--	--	--	--	--	--	--	--	--	--

*Miejsce  
na naklejkę  
z kodem*

**EGZAMIN MATURALNY  
Z WIEDZY O SPOŁECZEŃSTWIE**

**POZIOM PODSTAWOWY**

**SIERPIEŃ 2010**

**Instrukcja dla zdającego**

1. Sprawdź, czy arkusz egzaminacyjny zawiera 17 stron (zadania 1 – 22). Ewentualny brak zgłoś przewodniczącemu zespołu nadzorującego egzamin.
2. Odpowiedzi zapisz w miejscu na to przeznaczonym przy każdym zadaniu.
3. Pisz czytelnie. Używaj długopisu/pióra tylko z czarnym tuszem/atramentem.
4. Nie używaj korektora, a błędne zapisy wyraźnie przekreśl.
5. Pamiętaj, że zapisy w brudnopisie nie będą oceniane.
6. Na karcie odpowiedzi wpisz swój numer PESEL i przyklej naklejkę z kodem.
7. Nie wpisuj żadnych znaków w części przeznaczonej dla egzaminatora.

**Czas pracy:  
120 minut**

**Liczba punktów  
do uzyskania: 100**



MWO-P1\_1P-104

**Zadanie 1. (3 pkt)****Podaj nazwy opisanych form demokracji bezpośredniej.**

- A. Prawo umożliwiające określonej grupie obywateli posiadających pełnię praw wyborczych wnieść do Sejmu projekt ustawy.
- .....
- B. Forma sprzeciwu wobec istniejących rozwiązań prawnych polegająca na tym, że określona grupa obywateli może wystąpić z wnioskiem o poddanie obowiązującej ustawy lub umowy międzynarodowej pod głosowanie ludowe.
- .....
- C. Głosowanie, w którym obywatele całego państwa lub jego części wyrażają swoją opinię w sprawach o szczególnym znaczeniu.
- .....

**Zadanie 2. (3 pkt)****Na podstawie fragmentu tekstu Konstytucji RP i własnej wiedzy rozstrzygnij, które zdania są prawdziwe, a które fałszywe. W tabelę wpisz odpowiednio: *Prawda* lub *Falsz*.**

Proces legislacyjny

Art. 120.

Sejm uchwała ustawy zwykłą większością głosów w obecności co najmniej połowy ustawowej liczby posłów, chyba że Konstytucja przewiduje inną większość. W tym samym trybie Sejm podejmuje uchwały, jeżeli ustawa lub uchwała Sejmu nie stanowi inaczej.

Art. 121.

1. Ustawę uchwaloną przez Sejm Marszałek Sejmu przekazuje Senatowi.
2. Senat w ciągu 30 dni od dnia przekazania ustawy może ją przyjąć bez zmian, uchwalić poprawki albo uchwalić odrzucenie jej w całości. Jeżeli Senat w ciągu 30 dni od dnia przekazania ustawy nie podejmie stosownej uchwały, ustawę uznaje się za uchwaloną w brzmieniu przyjętym przez Sejm.
3. Uchwałę Senatu odrzucającą ustawę albo poprawkę zaproponowaną w uchwale Senatu uważa się za przyjętą, jeżeli Sejm nie odrzuci jej bezwzględną większością głosów w obecności co najmniej połowy ustawowej liczby posłów.

	Zdania	Prawda / Falsz
A.	W głosowaniu nad przyjęciem przez Sejm ustawy musi uczestniczyć minimum 230 posłów.	
B.	Stanowisko Senatu wobec ustawy ma charakter ostateczny i wiążący.	
C.	Sejm może odrzucić weto lub poprawkę Senatu bezwzględną większością głosów w obecności co najmniej połowy ustawowej liczby posłów.	

**Zadanie 3. (4 pkt)**

**Podaj dwa uprawnienia Prezydenta RP i dwa Rady Ministrów. W wyznaczone miejsca wpisz właściwe numery.**

Prezydent RP .....

Rada Ministrów .....

1. Mianuje Szefa Sztabu Generalnego i dowódców rodzajów Sił Zbrojnych.
2. Przygotowuje projekt budżetu państwa.
3. Zawiera umowy międzynarodowe wymagające ratyfikacji.
4. Rozstrzyga spory kompetencyjne pomiędzy centralnymi konstytucyjnymi organami państwa.
5. Podejmuje decyzję o rozpisaniu wyborów parlamentarnych.

**Zadanie 4. (4 pkt)**

**Do wymienionych Prezydentów RP dobierz po dwa wydarzenia, które miały miejsce w czasie trwania ich kadencji. W wyznaczone miejsca wpisz właściwe numery.**

A. Lech Wałęsa .....

B. Aleksander Kwaśniewski .....

1. Wejście Polski do NATO
2. Przyjęcie obowiązującej Konstytucji RP
3. Zjednoczenie Niemiec
4. Rozpad ZSRR
5. Podpisanie konkordatu pomiędzy Stolicą Apostolską a Polską

**Zadanie 5. (3 pkt)**

**Określ rodzaje kodeksów prawnych, z których pochodzą cytowane zapisy.**

Art. 11. Pełną zdolność do czynności prawnych nabywa się z chwilą uzyskania pełnoletności.

Kodeks .....

Art. 9. § 1. Czyn zabroniony popełniony jest umyślnie, jeżeli sprawca ma zamiar jego popełnienia, to jest chce go popełnić albo przewidując możliwość jego popełnienia, na to się godzi.

Kodeks .....

Art. 7. W toku postępowania organy administracji publicznej stoją na straży praworządności i podejmują wszelkie kroki niezbędne do dokładnego wyjaśnienia stanu faktycznego oraz do załatwienia sprawy, mając na względzie interes społeczny i słuszny interes obywateli.

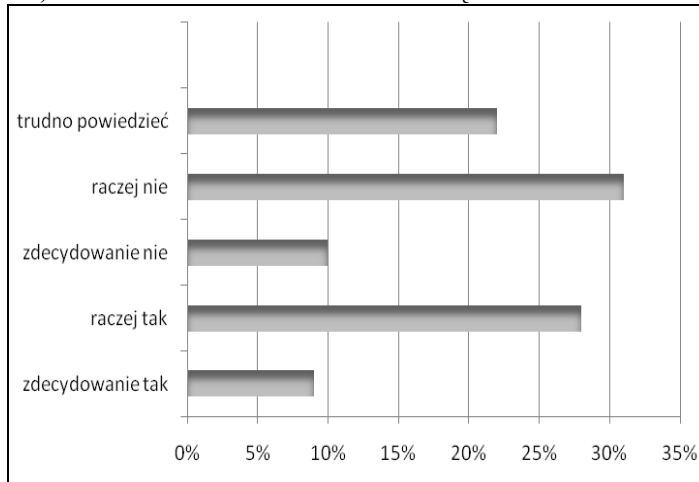
Kodeks .....

**Zadanie 6. (6 pkt)**

**Na podstawie diagramów i własnej wiedzy wykonaj polecenia.**

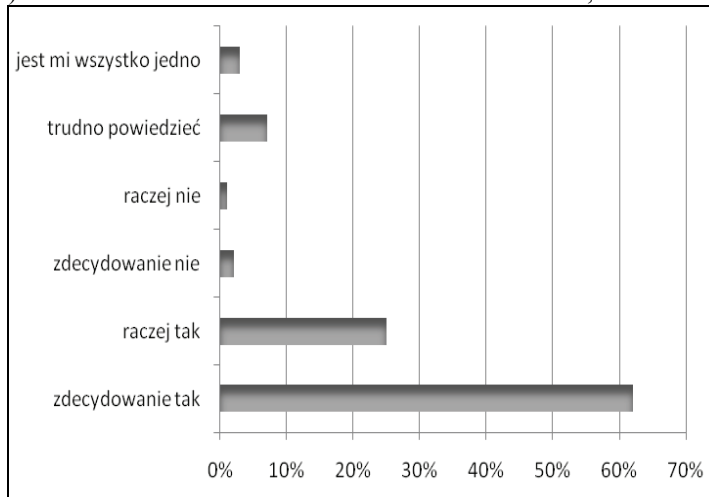
Wykres 1.\*

CZY, PANA(I) ZDANIEM, W POLSCE OBECNIE POWINNO SIĘ ZMIEŃĆ KONSTITUCJĘ, CZY TEŻ NIE?



Wykres 2.\*

CZY POPIERA PAN(I) OGRANICZENIE IMMUNITETU POSELSKIEGO, CZY TEŻ NIE POPIERA?



Na podstawie: Polacy o proponowanych zmianach w systemie politycznym, CBOS 2008.

**a) Czy zaprezentowane przez badanych poglądy na temat zmian w systemie politycznym są ze sobą spójne? Odpowiedź uzasadnij.**

Odpowiedź

.....

Uzasadnienie

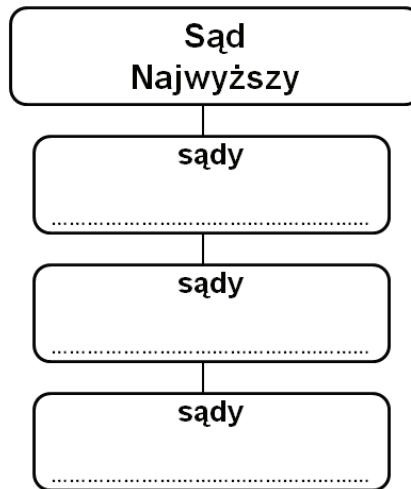
.....  
.....  
.....  
.....  
.....  
.....  
.....  
.....  
.....

b) Podaj trzy, inne niż poseł, urzędy/funkcje w Polsce, których sprawowanie chronione jest immunitetem.

.....  
.....  
.....

**Zadanie 7. (3 pkt)**

Uzupełnij schemat przedstawiający strukturę sądownictwa powszechnego w Polsce. W wyznaczone miejsca wpisz brakujące nazwy sądów.



**Zadanie 8. (3 pkt)**

Wskaż trzy zadania własne gminy. W wyznaczone miejsca wpisz właściwe numery.

Zadania własne gminy.....

1. Organizacja targowisk i hal targowych
2. Usuwanie i oczyszczanie ścieków komunalnych
3. Tworzenie strategii rozwoju regionu
4. Prowadzenie szkół podstawowych i przedszkoli
5. Prowadzenie szkół ponadgimnazjalnych

**Zadanie 9. (3 pkt)**

Podaj nazwy opisanych organów samorządu terytorialnego w Polsce.

A. Organ stanowiący i kontrolny gminy.

.....

B. Organ wykonawczy w gminie, w której siedziba władz znajduje się w mieście położonym na terytorium tej gminy.

.....

C. Organ wykonawczy w miastach powyżej 100 000 mieszkańców.

.....

**Zadanie 10. (3 pkt)**

Do podanych opisów dopisz imiona i nazwiska odpowiednich polskich polityków.

- A. Prawnik, profesor i wykładowca akademicki. W latach 1993–1997 pełnił funkcję Prezesa Trybunału Konstytucyjnego, a w latach 2000–2006 Rzecznika Praw Obywatelskich (od 2005 roku jako pełniący obowiązki).
- .....

- B. Prezes Zarządu Głównego Związku Ochotniczych Straży Pożarnych. Dwukrotnie powoływany na stanowisko Prezesa Rady Ministrów. Od 2007 roku wicepremier i minister gospodarki.
- .....

- C. W 1981 roku stanął na czele Wojskowej Rady Ocalenia Narodowego. I sekretarz KC PZPR w latach 1981–1989. Od lipca 1989 do grudnia 1990 roku pełnił funkcję prezydenta państwa.
- .....

**Zadanie 11. (2 pkt)**

Wskaż wydarzenie chronologicznie pierwsze i ostatnie. Obok pierwszego wpisz numer 1, a obok ostatniego 2.

- A. Wstąpienie Polski do Unii Europejskiej .....
- B. Przyjęcie obowiązującej Konstytucji RP .....
- C. Wejście Polski do NATO .....
- D. Wybór Lecha Wałęsy na Prezydenta RP .....

**Zadanie 12. (3 pkt)**

Poniższe zdania dotyczą praw człowieka.

Rozstrzygnij, które z nich jest prawdziwe, a które fałszywe. W tabelę wpisz odpowiednio: *Prawda* lub *Falsz*.

	Zdania	Prawda/Falsz
A.	Zgodnie z Powszechną Deklaracją Praw Człowieka wszyscy ludzie rodzą się wolni i równi pod względem swej godności i swych praw.	
B.	Prawo do życia i wolności osobistej należy do I generacji praw człowieka.	
C.	Organem Unii Europejskiej stojącym na straży przestrzegania praw człowieka jest Europejski Trybunał Praw Człowieka.	

**Zadanie 13. (6 pkt)**

Do każdej z wymienionych organizacji pożytku publicznego działającej w Polsce

- a) dobierz właściwy opis,
- b) nazwisko osoby kierującej jej działalnością.

W wyznaczone miejsca wpisz wybrane litery i numery.



Opis .....

Opis .....

Opis .....

Osoba kierująca .....

Osoba kierująca .....

Osoba kierująca .....

Opisy

- A. Organizacja pomaga ludziom na całym świecie w sytuacjach kryzysowych. Rozpoczęła działalność w 1994 roku, organizując konwoje z darami dla mieszkańców Sarajewa. Obecnie skupia się na organizowaniu pomocy długofalowej w regionach dotkniętych wojną czy kataklizmem.
- B. Celem fundacji jest pomoc dzieciom po ciężkich urazach mózgu oraz wybudowanie pierwszej w Polsce kliniki-wzorca przy oddziale Rehabilitacji Neurologicznej w Centrum Zdrowia Dziecka.
- C. Fundacja działa na rzecz osób niepełnosprawnych, ze szczególnym uwzględnieniem osób niepełnosprawnych intelektualnie. Organizuje pomoc rzeczową i finansową, prowadzi warsztaty terapii artystycznej.
- D. Fundacja działa na rzecz ochrony zdrowia, w szczególności dzieci. Cel realizuje, organizując coroczne Finałowe zbiórki na zakup sprzętu dla szpitali w całej Polsce. Sponsoruje ogólnopolskie programy medyczne i edukacyjne.

Osoby

- 1. Anna Dymna
- 2. Janina Ochojska
- 3. Ewa Błaszczyk
- 4. Jerzy Owsiak

**Zadanie 14. (2 pkt)**

Wymień dwa zadania statutowe Polskiego Czerwonego Krzyża.

— .....

— .....

— .....

— .....





**Zadanie 16. (6 pkt)**

Do których z państw sąsiadujących z Polską odnoszą się zamieszczone opisy?  
Wpisz do tabeli nazwę właściwego państwa i numer, którym oznaczono go na mapie.



	Opis	Państwo	Numer
A.	Państwo o strukturze federacyjnej. Członek Unii Europejskiej, NATO, Rady Państw Morza Bałtyckiego		
B.	Członek Wspólnoty Niepodległych Państw. Proklamowało niezależność w roku 1991 roku. Pierwszym prezydentem wolnego państwa został Leonid Krawczuk.		
C.	Państwo powstałe w 1993 roku. Członek Unii Europejskiej, NATO, Grupy Wyszehradzkiej.		
D.	W marcu 2004 roku państwo zostało członkiem NATO, a w maju tego samego roku przyjęto je do Unii Europejskiej. Członek Rady Bałtyckiej.		

**Zadanie 17. (6 pkt)**

Zaznacz znakiem X państwa, które

a) w 1951 roku podpisały traktat założycielski Europejskiej Wspólnoty Węgla i Stali.

Francja	
Włochy	
Wielka Brytania	
Szwecja	

b) w 2002 roku przyjęły wspólną walutę Euro.

Francja	
Wielka Brytania	
Belgia	
Estonia	

c) w 2004 roku wstąpiły do Unii Europejskiej.

Litwa	
Dania	
Cypr	
Norwegia	

**Zadanie 18. (3 pkt)**

Do podanych opisów dopisz polskie nazwy właściwych organów Organizacji Narodów Zjednoczonych. Nie używaj skrótów.

A. Decyduje o zastosowaniu odpowiednich środków w celu przywrócenia międzynarodowego pokoju i bezpieczeństwa, w tym zastosowania sankcji ekonomicznych lub użycia siły.

.....

B. Rozstrzyga spory prawne między państwami; zajmuje stanowisko w sprawach wymienionych w Karcie Narodów Zjednoczonych lub w umowach międzynarodowych.

.....

C. Zajmuje się sprawami gospodarczymi, społecznymi, prawami człowieka, przygotowuje projekty konwencji, ustala wytyczne dla organów pomocniczych i wyspecjalizowanych agencji, jak np. UNICEF.

.....

**Zadanie 19. (3 pkt)**

Do wymienionych prezydentów dopisz nazwę odpowiadającego im państwa.

Prezydenci państw – dane z czerwca 2010 roku

- A. Wiktor Janukowicz .....
- B. Václav Klaus .....
- C. Nicolas Sarkozy .....

**Zadanie 20. (6 pkt)**

Na podstawie własnej wiedzy wykonaj polecenia.

a) Podaj nazwy współcześnie istniejących państw, które powstały po rozpadzie Jugosławii i których niepodległość jest uznawana przez Polskę.

.....  
.....

b) Do których z państw powstałych po rozpadzie Jugosławii odnoszą się zamieszczone poniżej opisy?

A. Państwo należące do Unii Europejskiej i NATO.

.....

B. Większość ludności stanowią Albańczycy; niepodległość ogłosiło w 2008 roku.

.....

C. W latach 1992 – 1995 na jego terenie toczyła się najkrwawsza w całym regionie wojna domowa. Obecnie państwo jest federacją.

.....













## **BRUDNOPIS**









PESEL

--	--	--	--	--	--	--	--	--	--	--	--	--	--	--

MWO-P1\_1P-104

WYPEŁNIA ZDAJĄCY

Miejsce na naklejkę z nr PESEL

WYPEŁNIA EGZAMINATOR

Suma punktów														
0	1	2	3	4	5	6	7	8	9	10	11	12	13	14
<input type="checkbox"/>	<input type="checkbox"/>	<input type="checkbox"/>	<input type="checkbox"/>	<input type="checkbox"/>	<input type="checkbox"/>	<input type="checkbox"/>	<input type="checkbox"/>	<input type="checkbox"/>	<input type="checkbox"/>	<input type="checkbox"/>	<input type="checkbox"/>	<input type="checkbox"/>	<input type="checkbox"/>	<input type="checkbox"/>
15	16	17	18	19	20	21	22	23	24	25	26	27	28	29
<input type="checkbox"/>	<input type="checkbox"/>	<input type="checkbox"/>	<input type="checkbox"/>	<input type="checkbox"/>	<input type="checkbox"/>	<input type="checkbox"/>	<input type="checkbox"/>	<input type="checkbox"/>	<input type="checkbox"/>	<input type="checkbox"/>	<input type="checkbox"/>	<input type="checkbox"/>	<input type="checkbox"/>	<input type="checkbox"/>
30	31	32	33	34	35	36	37	38	39	40	41	42	43	44
<input type="checkbox"/>	<input type="checkbox"/>	<input type="checkbox"/>	<input type="checkbox"/>	<input type="checkbox"/>	<input type="checkbox"/>	<input type="checkbox"/>	<input type="checkbox"/>	<input type="checkbox"/>	<input type="checkbox"/>	<input type="checkbox"/>	<input type="checkbox"/>	<input type="checkbox"/>	<input type="checkbox"/>	<input type="checkbox"/>
45	46	47	48	49	50	51	52	53	54	55	56	57	58	59
<input type="checkbox"/>	<input type="checkbox"/>	<input type="checkbox"/>	<input type="checkbox"/>	<input type="checkbox"/>	<input type="checkbox"/>	<input type="checkbox"/>	<input type="checkbox"/>	<input type="checkbox"/>	<input type="checkbox"/>	<input type="checkbox"/>	<input type="checkbox"/>	<input type="checkbox"/>	<input type="checkbox"/>	<input type="checkbox"/>
60	61	62	63	64	65	66	67	68	69	70	71	72	73	74
<input type="checkbox"/>	<input type="checkbox"/>	<input type="checkbox"/>	<input type="checkbox"/>	<input type="checkbox"/>	<input type="checkbox"/>	<input type="checkbox"/>	<input type="checkbox"/>	<input type="checkbox"/>	<input type="checkbox"/>	<input type="checkbox"/>	<input type="checkbox"/>	<input type="checkbox"/>	<input type="checkbox"/>	<input type="checkbox"/>
75	76	77	78	79	80	81	82	83	84	85	86	87	88	89
<input type="checkbox"/>	<input type="checkbox"/>	<input type="checkbox"/>	<input type="checkbox"/>	<input type="checkbox"/>	<input type="checkbox"/>	<input type="checkbox"/>	<input type="checkbox"/>	<input type="checkbox"/>	<input type="checkbox"/>	<input type="checkbox"/>	<input type="checkbox"/>	<input type="checkbox"/>	<input type="checkbox"/>	<input type="checkbox"/>
90	91	92	93	94	95	96	97	98	99	100				
<input type="checkbox"/>	<input type="checkbox"/>	<input type="checkbox"/>	<input type="checkbox"/>	<input type="checkbox"/>	<input type="checkbox"/>	<input type="checkbox"/>	<input type="checkbox"/>	<input type="checkbox"/>	<input type="checkbox"/>	<input type="checkbox"/>				

--	--	--	--	--	--	--	--	--	--	--	--	--	--	--

KOD EGZAMINATORA

--	--	--

KOD ZDAJĄCEGO

.....  
Czytelny podpis egzaminatora